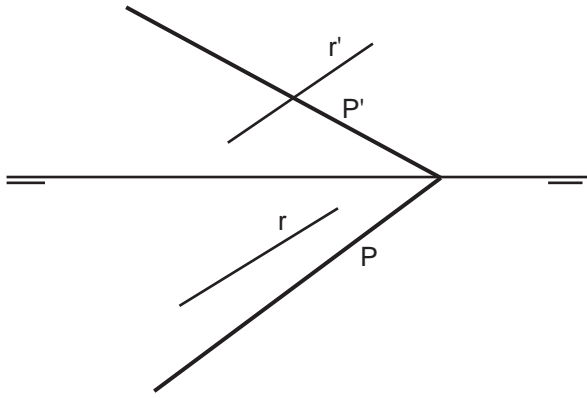
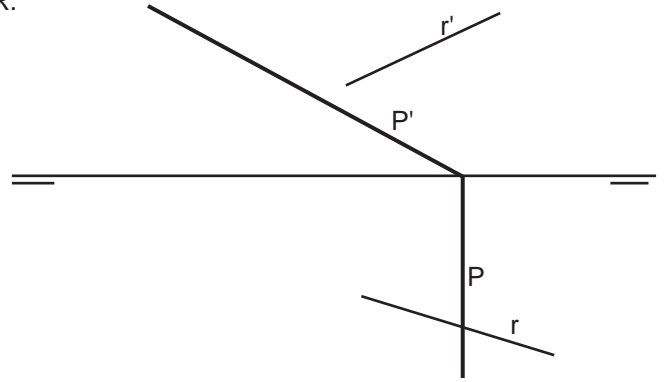


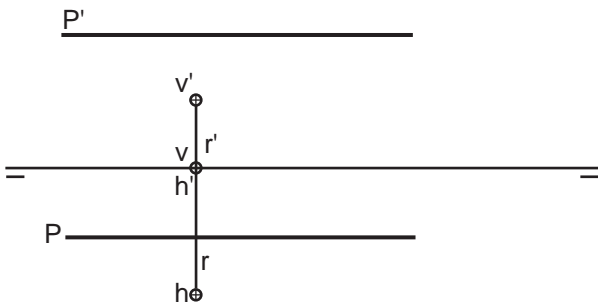
Hallar el punto de intersección $i-i'$ del plano P con la recta R.



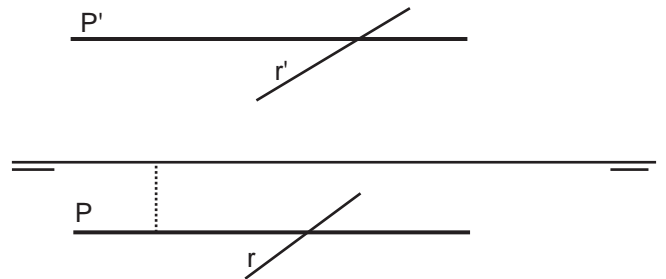
Hallar el punto de intersección $i-i'$ del plano P con la recta R.



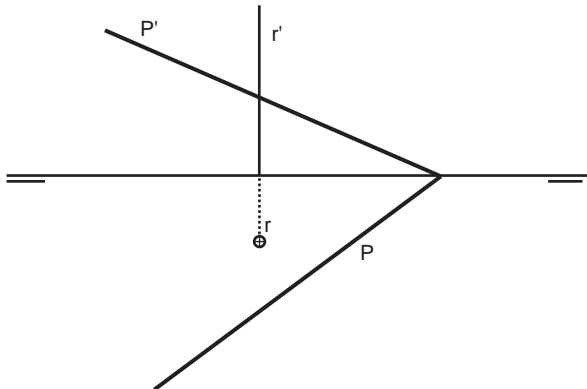
Hallar el punto de intersección $i-i'$ del plano P con la recta de perfil R determinada por sus trazas V y H.



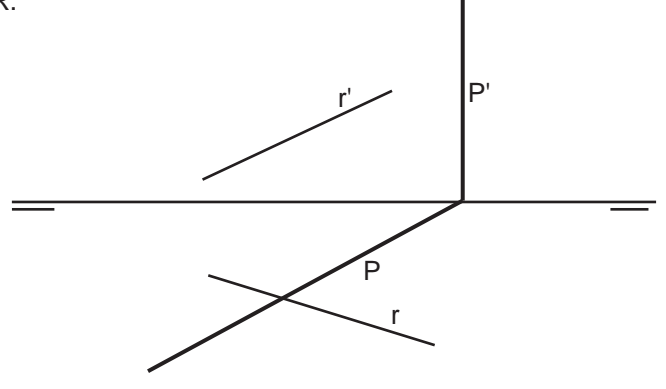
Hallar el punto de intersección $i-i'$ del plano P con la recta R.



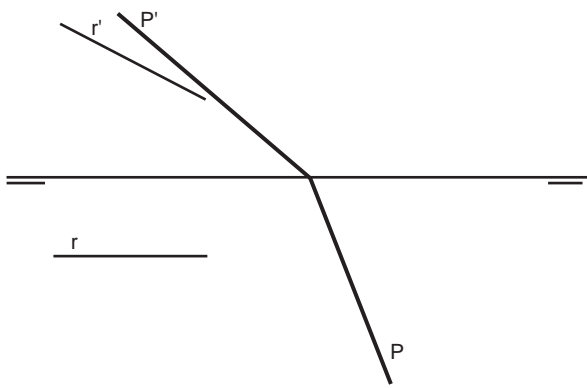
Hallar el punto de intersección $i-i'$ del plano P con la recta R.



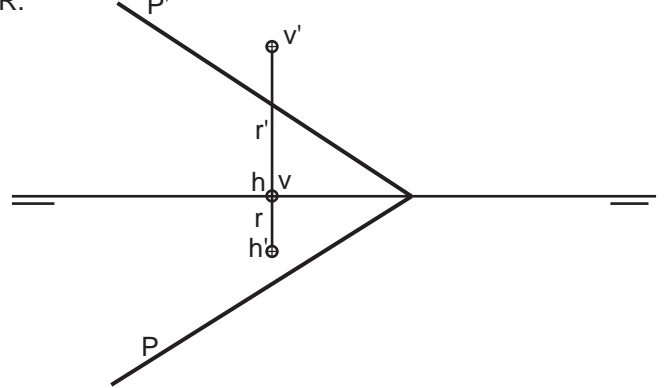
Hallar el punto de intersección $i-i'$ del plano P con la recta R.



Hallar el punto de intersección $i-i'$ del plano P con la recta R.



Hallar el punto de intersección $i-i'$ del plano P con la recta R.



Grupo	Apellido Apellido, Nombre	Fecha



laslaminas.es

Título de la lámina

SDO: INTERSECCIÓN RECTA-PLANO